

سنڌي

هدايت: استاد / نگراني ڪندڙ کي گذارش ٿي ڪجي ته ڏنل سڀني سوالن کي چڱي طرح پڙهي ٻڌائي ۽ ٻارن جي رهنمائي ڪري ته جيئن ٻار سوالن کي سمجهي سگهن.

مارڪون 04

ٽاسڪ 1

هيٺ ڏنل لفظن جي معنيٰ ۽ ضد لکو.

لفظ	معنيٰ	ضد
حياتي		
آپ		

مارڪون 02

ٽاسڪ 2

هيٺ ڏنل لفظن کي جملن ۾ استعمال ڪريو.

1. ايڪو: _____

2. والدين: _____

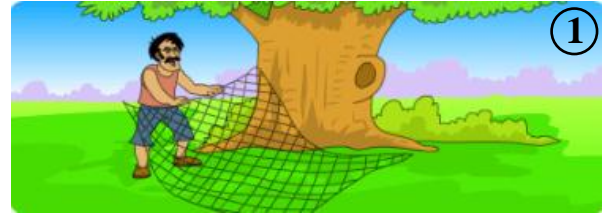
مارڪون 04

تاسڪ 3

هيٺ ڏنل ڪهاڻي کي غور سان پڙهو ۽ خال ڀريو.



ماري/پڪي قاسائيندڙ چار سان گڏ اُن جا داڻا به زمين تي پڪيڙي ڇڏيا ۽ پاڻ گهاٽن ٻوڙن ۾ لڪي پڪين جي اچڻ جو انتظار ڪرڻ لڳو. توري دير کان پوءِ اتان ڪبوترن جو هڪ وڏو پنهنجي بادشاهه سميت اڏامندو وڃي رهيو هو. انهن زمين تي اُن جا داڻا پيل ڏٺا ته هو هيٺ لهي پيا.



هڪ ڏينهن صبح جو ماري/پڪي قاسائيندڙ هڪ وڏي وڻ جي هيٺيان چار وڇايو. ماري سوچيو ته هن وڏي وڻ تي ويهڻ لاءِ روزانو ڪيترا ئي پڪي اچن ٿا، اڄ ته سنوشڪار لڳندو.



بادشاهه ڪبوتر کين چيو ته توهان منهنجو چوڻ نه مڃيو پر اڃا به وقت آهي. هاڻي هيئن ڪيو جو سڀئي گڏجي اڏامڻ جي ڪوشش ڪيو. سڀني ڪبوترن گڏجي اڏامڻ شروع ڪيو ۽ چار جا ڪلا پتجي پيا، ڪبوتر چار سميت اڏامي ويا.



بادشاهه ڪبوتر انهن کي گهڻو ئي سمجهايو ته هيٺ نه لهو پر هنن مڃيو ئي نه ۽ هيٺ لهي اُن کائڻ لڳا. جڏهن انهن کائي ڍڙ ڪيو ته پوءِ هڪٻئي کي چيو اچو ته هلون، پر هي ڇا؟ انهن ڏٺو ته سندن پير ته چار ۾ قاسي پيا هيا.

1. ماري/پڪي قاسائيندڙ وڏي وڻ جي هيٺيان چار چو وڇايو؟

2. توري دير کان پوءِ چار جو وڏو اڏامندو وڃي رهيو هو؟

3. بادشاهه ڪيوتريچا سمجهايو؟

4. بادشاهه ڪيوتريچا چيو؟

مارڪون 04

تاسڪ 4

هيٺ ڏنل اسمن مان اسم عام ۽ اسم خاص الڳ الڳ ڪري خانن ۾ لکو.

ڪراچي	چوڪرو
بادشاهي مسجد	دروازو

اسم خاص	اسم عام

مارڪون 03

ٽاسڪ 5

هيٺ ڏنل پيراگراف پڙهو.

مون وٽ هڪ ٻڌڪ آهي، آمنه وٽ چار ٻڌڪون آهن.

اسان جي گهر ۾ ٽي ڪمرا آهن، آصف جي گهر ۾ هڪ ڪمرو آهي.

اسان وٽ هڪ مينهن به پڪريون آهن، منهنجي ماسي وٽ ٽي مينهنون ۽ هڪ پڪري آهي.

هيٺ ڏنل جدول ۾ پيراگراف مان ڪنيل واحد لکيل آهن. پيراگراف ۾ موجود انهن جا ڪي به ٽي جمع لکو.

واحد	جمع
ٻڌڪ	
ڪمرو	
مينهن	
پڪري	

مارڪون 03

ٽاسڪ 6

هيٺ ڏنل عنوان مان ڪنهن به هڪ تي مختصر نوٽ لکو.

(ب) تعليم جا فائدا

(الف) پاڻي

English

Instruction: Teacher/Invigilator is requested to readout all questions to the students clearly.

Task 7

1 Mark

Write the main idea of the following short story.

It is raining. Amna wears her boots. She puts on a raincoat. She wears her hat. Now she is ready to play in rain.

Ans. _____

Task 8

2 Marks

Read the given sentences and underline the **adverbs**.

- i) The small dog ran away quickly.
- ii) Teachers talk to students kindly.

Task 9

2 Marks

Rewrite the given sentences in the negative form.

Example: Aamna washes her face.

Ans. *Aamna doesn't wash her face.*

- i) I play cricket.

Ans. _____

- ii) Ayaz reads a book.

Ans. _____

Task 10**3 Marks**

Identify the adjective in the given sentences and tick (✓) the correct answers.

i) She has a shiny necklace.

- A. a
- B. she
- C. shiny
- D. necklace

ii) The strong cat runs faster.

- A. cat
- B. the
- C. faster
- D. strong

iii) The architect designed a beautiful house.

- A. the
- B. house
- C. architect
- D. beautiful

Task 11**4 Marks**

Read the given passage carefully and tick (✓) the correct answers.

My name is Aliya. I love my baby brother. His name is Azfar. He sleeps a lot. Sometimes he smiles when he is asleep. When Azfar cries, I try to make him happy. I like to read stories for him. He laughs when I talk in silly voices. My older brother likes to play hide and seek with Azfar. He thinks it is very funny. Mom and dad will be taking us to the park tomorrow for a picnic.

i) The name of Aliya's baby brother is _____

- A. Amin.
- B. Azfar.
- C. Akbar.
- D. Najeeb.

ii) When he cries, Aliya _____

- A. claps her hands.
- B. reads him stories.
- C. tries to cheer him.
- D. sings poems to him.

iii) Aliya's older brother likes to play _____ with Azfar.

- A. catch
- B. cricket
- C. volley ball
- D. hide & seek

iv) Tomorrow Aliya's family will be going to the _____

- A. zoo.
- B. park.
- C. seaside.
- D. museum.

Task 12**2 Marks**

Sikandar and Aayan are students of Grade-4. Hassan is Sikandar's friend. Sikandar is introducing Hassan to Aayan. Complete the given conversation by writing appropriate dialogues.



Sikandar: Hello, Aayan!

Aayan: Hello, Sikandar. This is Hassan.

Hassan: How do you do, Sikandar?

Sikandar: _____

Sikandar: Do you live in Karachi?

Hassan: No, I live in Larkana. I came here to attend my cousin's wedding.

Sikandar: Come to my house with Aayan on Sunday. It is a holiday.

Come on Sunday.

Hassan: _____

Task 13**3 Marks**

Tick (✓) the correct profession for each picture.



i) He is a _____ (teacher, artist, doctor, farmer)



ii) He is a _____ (painter, mason, carpenter, teacher)



iii) He is a _____ (carpenter, doctor, farmer, cobbler)

Task 14**2 Marks**

Mark the full stop at the end of the sentences where appropriate.

- i) I will help you
- ii) When you have taken a ride on train
- iii) The monkeys are having fun in a zoo
- iv) When we will watch new movie

Task 15**2 Marks**


Write appropriate question for the following sentences with the help of the given words. Do not forget to put the questions mark at the end.

- i) I am eight years old. (How/ old /you)

- ii) I live in Jamshoro. (Where/ you/ live)

Task 16**2 Marks**

Write the names of the given shapes.




i) _____



ii) _____

Task 17**2 Marks**

Look at the given picture. Tick (✓) the most expensive and the cheapest object in the shop.

Toy Shop Price List**Task 18****2 Marks**

Complete the given sentences by using *and* & *but* correctly.

- My grandfather grows vegetables _____ he never eats them.
- I like to play cricket _____ football.

Task 19**3 Marks**

Read the given sentences and tick (✓) the correct form of verb.

- Fareeha (*combs/comb*) her doll's hair.
- My friends are (*come/ coming*) at dinner tonight.
- Ali is (*take/ taking*) his dog on walk daily.

Mathematics

Instruction: Teacher/Invigilator is requested to readout all questions to the students clearly.

هدايت: استاد / نگراني ڪندڙ کي گذارش ٿي ڪجي ته ڏنل سڀني سوالن کي چڱي طرح پڙهي
ٻڌائي ۽ ٻارن جي رهنمائي ڪري ته جيئن ٻار سوالن کي سمجهي سگهن.
هدايت: استاد / نگراني تمام سوالات کي اچي طرح سے پڙھیں اور بچوں کي رهنمائي ڪريں۔

Task 20

5 Marks

Tick (✓) the correct answers.

صحيح جوابن تي ٽڪ (✓) جو نشان لڳايو.
صحیح جوابات پر درست (✓) کا نشان لڳائين۔

i) How many grams are there in 4 kg and 150 grams?

4 ڪلوگرام ۽ 150 گرامن ۾ ڪل ڪيترا گرام ٿيندا؟

4 ڪلوگرام اور 150 گرام میں ڪل ڪتنه گرام هوتے هيں؟

	Kg	g	grams
Example	1	300	$1000 + 300 = 1300$ g

ii) Find the product of 84×8 .

84×8 جو حاصل معلوم ڪريو.

84×8 کا حاصل معلوم ڪريں۔

- A. 670
- B. 671
- C. 672
- D. 673

iii) Identify the correct decimal number of the given expanded form.

هيٺ ڏنل توسيعي شڪل جي صحيح ڏهاڻي عدد جي سڃاڻپ ڪريو.
دي گئي توسيعي شڪل ڪے درست اعشاري عدد کي نشاندهي ڪريں۔

$$0.1+0.08+0.001$$

- A. 0.181
- B. 0.180
- C. 0.810
- D. 0.108

iv) Identify the bigger fraction.

وڏي اڻپور جي سڃاڻپ ڪريو.
بڙي ڪسور کي نشاندهي ڪريں۔

- A. $\frac{20}{5}$
- B. $\frac{25}{5}$
- C. $\frac{10}{5}$
- D. $\frac{5}{20}$

v) Identify the appropriate unit of measurement to measure the weight of apples.

هيٺ ڏنل صوفن جو وزن معلوم ڪرڻ لاءِ پيمائش جي صحيح ايڪي جي سڃاڻپ ڪريو.
دٽ گڻ سيٻو ڪا وزن معلوم ڪرڻ ڪي لئڻ پيائش ڪي موزو ڪا ڪي نشاند هي ڪري.



- A. feet
- B. litre
- C. metre
- D. kilograms

Task 21

3 Marks

Write the correct answers.

صحيح جواب لکو.
صحیح جوابات لکيں۔

i) $100+50+2000+9 =$

Ans. _____

ii) $168 \div 12$

Ans. _____

iii) $\frac{16}{6} - \frac{4}{6}$

Ans. _____

Task 22**2 Marks**

A mobile phone seller sells 90 phones every day. How many mobile phones does he sell in 10 days? Show steps.


ہک موبائل فون کپائٹ/وکٹن واروروزانو 90 فون کپائی/وکٹی تو بتایو تہ 10 ڈینہن یر کیترا فون کپائیندو/وکٹندو؟ مرحلیوار لکو۔
ایک موبائل فون بیچنے والا روزانہ 90 فون بیچتا ہے۔ بتائے وہ 10 دن میں کتنے فون بیچے گا؟ مراحل لکھیں۔

Ans. _____

Task 23**1 Mark**

Write the fraction as shown in the shaded parts.

رنگ یریل حصن کی اٹپور یر لکو۔
رنگدار حصوں کے مطابق کسور لکھیں۔



Ans. _____

Task 24**2 Marks**

i) Write the given digit in words.

ھیٹ ڈنل عددن کی لفظن یر لکو۔
دئے گئے عدد کو الفاظ میں لکھیں۔

70910

Ans. _____

ii) Write the decimal fraction in number.

ھیٹ ڈنل ڈھائی اٹیپور کی عددن یر لکو۔
دی گئی اعشاری کسور کو عدد میں لکھیں۔

Two	Point	Four	Five
ٲہ	ڈھائی	چار	پنج
دو	اعشاریہ	چار	پانچ

Ans. _____

Task 25**2 Marks**

There are 7 days in 1 week. How many days are there in 75 weeks? Show steps.

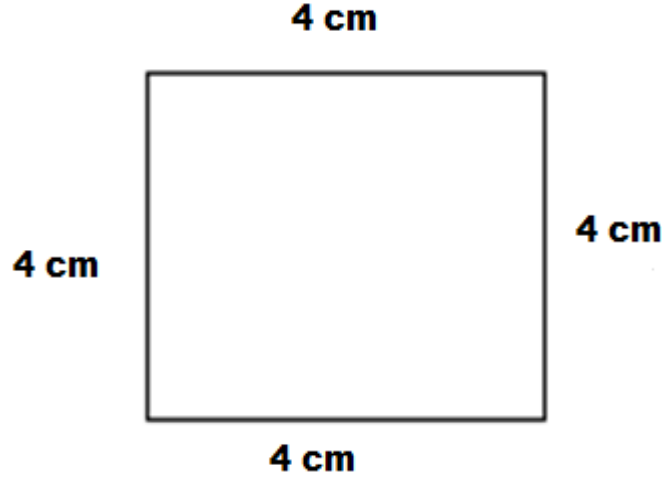
1 ہفتی یر 7 ڈینھن ہوندا آھن۔ ٲدایوتہ 75 ہفتن یر کیترا ڈینھن تیندا؟ مرحلیوار لکو۔
ایک ہفتے میں 7 دن ہوتے ہیں۔ بتائے 75 ہفتوں میں کتنے دن ہونگے؟ مراحل لکھیں۔

Ans. _____

Task 26**1 Mark**

Find the perimeter of the given square.

هيٺ ڏنل چورس جو احاطو معلوم ڪريو.
دئڻ گئڻ چوڪور جا احاطه معلوم ڪريون۔



Ans. _____

Task 27**2 Marks**

The length of one piece of cloth is 18.7 metres and the length of another piece is 12.3 metres. Find the total length of both the pieces. Show steps.

هڪ ڪپڙي جي ڊيگهه 18.7 ميٽر آهي ۽ ٻئي ڪپڙي جي ڊيگهه 12.3 ميٽر آهي. ٻنهي ڪپڙن جي ڪل ڊيگهه ٻڌايو. مرحليوار لکو.

ايڪ ڪپڙي کي لمبائي 18.7 ميٽر هجي ۽ ٻيو ڪپڙي کي لمبائي 12.3 ميٽر هجي۔ دونوں ڪپڙوں کي ڪل لمبائي ٻڌايو۔
مراعل دکھايو۔

Ans. _____

Task 28**2 Marks**

Change the following into minutes and seconds. Example is given for reference.

ہینٹ ڈنل مثال کی ڈسنڈی جدول پر ڈنل سیکنڈن کی منتن ۽ سیکنڈن پر تبدیل کریو۔
دی گئی مثال کو سامنے رکھتے ہوئے ذیل میں گئے سیکنڈ کو منٹ اور سیکنڈ میں منتقل کریں۔

	Seconds	Minutes	Seconds
Example	78	1	18
	83		
	130		

Task 29**2 Marks**

Solve the following. Show steps.

ہینٹ ڈنل حل کریو۔ مرحلا ڈیکاریو۔
حل کریں۔ مرا حل دکھائیں۔

$$(6 \times 4) + 3$$

Ans. _____

Task 30**2 Marks**

A shopkeeper had 77 liters of kerosene oil, out of which he sold 39 liters. How many liters of kerosene oil is left? Show steps.

ھڪ دڪاندار وٽ 77 ليٽر گاسليٽ آھي جنھن مان ان 39 ليٽر وڪيو. ٻڌايو تہ دڪاندار وٽ باقي ڪيترو گاسليٽ بچيو؟ مرحليوار لکو.

ايڪ دڪاندار ڪي پاس 77 ليٽر مٺي ڪا تيل ھے جس ميں سے اس نے 39 ليٽر فروخت ڪر ديا۔ بتايے ڪتنا ليٽر مٺي ڪا تيل باقى بچا؟
مراحل دکھايے۔

Ans. _____

Task 31**1 Mark**

Arrange the given fraction in descending order.

ھيٺ ڏنل اٺپور ڪي گھجنڌڙ ترتيب ۾ لکو.
دي گئي ڪسور ڪو ڪم ھوتی ھونی ترتيب ميں لکھيں۔

$$\frac{7}{8}, \frac{5}{8}, \frac{2}{8}, \frac{5}{8}$$

Ans. _____

Task 32**2 Marks**

In the given set of numbers, tick (✓) the even numbers.

هيٺ ڏنل عددن جي سيٽ مان ٻڌي عددن تي ٽڪ (✓) جو نشان لڳايو.
ديے گئے اعداد کے سيٺ میں سے جفت اعداد پر درست (✓) کا نشان لڳائیں۔

993	832	447	509	736	341
-----	-----	-----	-----	-----	-----

Task 33**2 Marks**

Multiply the given fraction with whole number and show steps.

هيٺ ڏنل اڻڀور کي سڄي عدد سان ضرب ڪيو. مرحلا ڏيکاريو.
دی گئی کسور کو مکمل عدد سے ضرب کریں۔ مراحل دکھائیں۔

$$\frac{3}{4} \times 3$$

Ans. _____

Task 34**1 Mark**

Solve.

حل کریو۔
حل کریں۔

$$\begin{array}{r} 34.432 \\ + 52.765 \\ \hline \\ \hline \end{array}$$

Rough Work

Science

Instruction: Teacher/Invigilator is requested to readout all questions to the students clearly.

هدايت: استاد / نگراني ڪندڙ کي گذارش ٿي ڪجي ته ڏنل سڀني سوالن کي چڱي طرح پڙهي
بتائڻي ۽ ٻارن جي رهنمائي ڪري ته جيئن ٻار سوالن کي سمجهي سگهن.
هدايت: استاد / نگران تمام سوالات کي اچي طرح سے پڙھيس اور بچوں کي رهنمائي ڪريں۔

Task 35

6 Marks

Tick (✓) the correct answers.

صحيح جوابن تي ٽڪ (✓) جو نشان لڳايو.
صحیح جوابات پر درست (✓) کا نشان لڳائیں۔

i) The position of the Polar Star is fixed on the sky so it is used to find the

آسمان تي هڪ ئي جڳهه تي رهڻ جي ڪري قطب تارو استعمال ٿيندو آهي سڃاڻپ ڪرڻ جي لاءِ
آسمان پر ايڪ هي جڳهه پر مقرر رهڻ کي وجهه سے قطب ستاره استعمال هوتا هي نشاندهي ڪرڻ کي لاءِ

A	B	C	D
speed.	weight.	direction.	rain.
رفتار جي.	وزن جي.	طرف جي.	مِينهن / بارش جي.
رفتار کي۔	وزن کي۔	سمت کي۔	بارش کي۔

ii) When same electrical charges come closer to each other they

جڏهن هڪجهڙيون برقي چارج ويجهو ٿينديون آهن ته اهي هڪٻئي کي
جب ايڪ جيسے برقي چارج قريب آتے هيں تو وه ايڪ دوسرے کو

A	B	C	D
show no reaction.	repel.	destroy.	attract.
ڪوبه رد عمل ناهن ڏيکارينديون.	ڏيڪينديون آهن.	تباھ ڪنديون آهن.	ڪشش ڪنديون آهن.
ڪوئي رد عمل نهين دکھائے۔	دھڪاڏيے هيں۔	تباھ ڪرڏيے هيں۔	ڪھينچے هيں۔

iii) Which of the following activities increases water pollution?

هيٺ ڏنل ڪهڙي سرگرمي پاڻي جي آلودگي وڌائيندي آهي؟

ذيل ۾ ڏيئي کون سي سرگرمي آبي آلودگي بڙھائي ٿي؟

A
stove's smoke

چلھي جو دونهون

چولھي کا دھواں

B
house hold garbage

گھرن جو گند ڪچرو

گھروں کا کوڑا

C
smoking/cigarette

سگريٽ جو دونهون

سگريٽ کا دھواں

D
dumping garbage in rivers and sea

دريائن ۽ سمنڊن ۾ گند ڪچرو اڇلائڻ سان

سمنڊر اور درياؤن ۾ کوڙا پھينائڻا

iv) After reaching high up in the sky water vapours from the Earth solidify and become ice (clouds) by the process of

زمين مان نڪرڻ وارا آبي بخار جڏهن آسمان تي گهڻو مٿي پهچندا آهن ته نهري برف (گگرن) ۾ تبديل ٿي ويندا آهن. اهو طريقو آهي

زمين سے نکلنے والے آبي بخارات جب آسمان پر بہت اوپر پہنچتے ہیں تو ٹھوس برف (بادل) ۾ تبديل ہو جاتے ہیں یہ طريقہ کہلاتا ہے

A
freezing.

جمڻ

انجماد کا۔

B
evaporation.

بخارجڻ

تبخير کا۔

C
melting.

پگھرجڻ

پگھلاؤ کا۔

D
filtration.

ڇاڻڻ

تقطير کا۔

v) In centigrade scale, the temperature at which water boils is

سينٽي گريڊ اسڪيل تي جنهن درجہ حرارت تي پاڻي اڀرڻ لڳندو آهي اهو آهي

سينٽي گريڊ اسڪيل پر جس درجہ حرارت پر پاني اڀرن لڳتا ہے وہ ہے

A
70°

B
80°

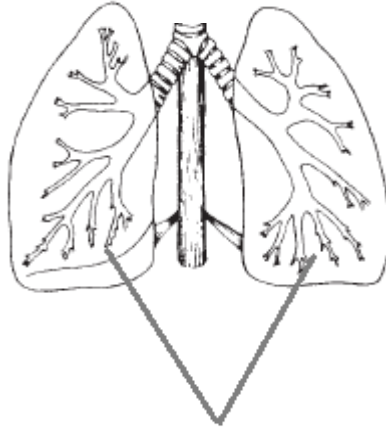
C
90°

D
100°

Task 37**2 Marks**

Look at the given picture and write the correct answers.

هيٺ ڏنل تصوير کي ڏسو ۽ صحيح جواب لکو.
دی گئی تصویر کو دیکھیں صحیح جوابات لکھیں۔



i) Label the diagram of the above given human organ.

مٿي ڏيکاريل انساني عضوي واري شڪل جو نالو لکو.
اوپر دئے گئے انسانی عضو کی شکل کا نام لکھیں۔

ii) If the above given organ will not function properly we will feel problem in

جيڪڏهن مٿي ڏنل عضو صحيح طور تي ڪم نه ڪري ته اسان کي مشڪل ٿيندي
اگر اوپر ڏيکاريل عضو صحيح طور پر ڪم نه ڪري ته اسان کي مشڪل ٿيندي

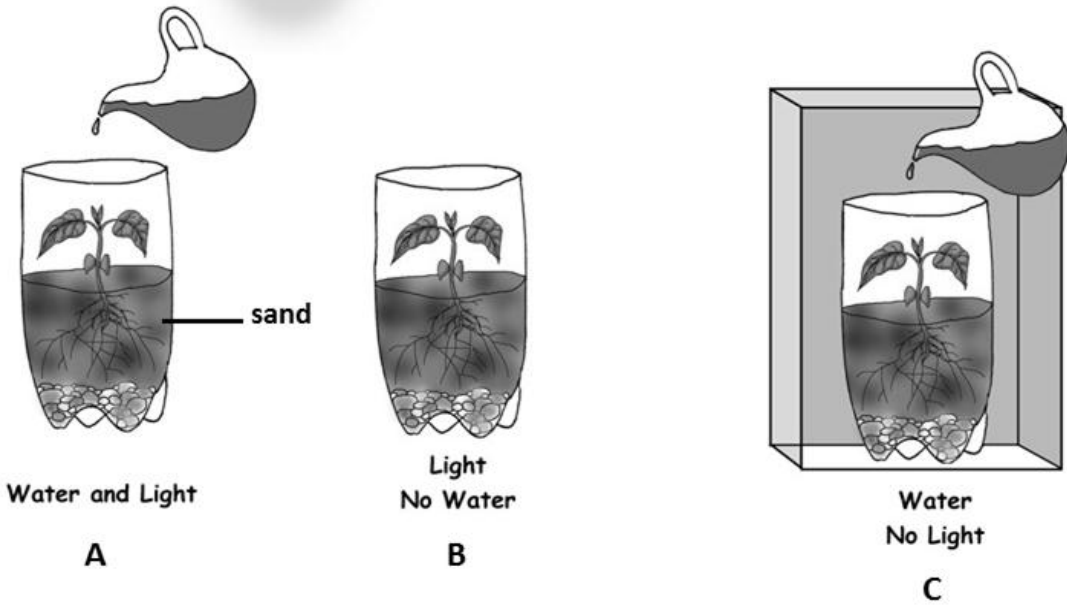
Ans. _____

Task 38**2 Marks**

Look at the given picture, experiment shows that plants are being kept in different conditions of light and water. Write the correct answers.

هيٺ ڏنل تصوير ۾ ٻوٽن کي روشني ۽ پاڻي جي فراهمي جي مختلف حالتن ۾ رکڻ جو تجربو ڏيکاريو ويو آهي.
صحيح جواب لکو.

دي گئي تصوير ۾ ٻوٽن کي روشني اور پاڻي کي فراهمي جي مختلف حالتن ۾ رکڻ جو تجربو ڏيکاريو ويو آهي.
صحيح جوابات تحرير ڪريون.



i) What will happen to plant 'B' after few weeks?

ڪجهه هفتن کان پوءِ ٻوٽي B سان ڇا ٿيندو؟
ڪجهه هفتن کان پوءِ ٻوٽي B سان ڇا ٿيندو؟

Ans. _____

ii) Write the reason for above answer.

مٿي ڏنل جواب جو سبب لکو.
اوپر ڏنل جواب جي سبب لکيو.

Ans. _____

Task 39**2 Marks**

Write the correct example of the given kinds of magnet.

هيٺ ڏنل چقمق جي قسمن جا صحيح استعمال لکو.
وڻي گڻي مقناطيس کي قسمن کي مثالين لکيڻ۔

compass, torch, telephones

تيليفون، هٿ بتي، قطب نما

ٽيلي فون، مشعل، قطب نما

Kind of magnet	Example
چقمق جا قسم مقناطيس کي قسم	مثال مثال
Electromagnet	
Permanent Magnet	

Task 40**1 Mark**

Look at the given picture of a thermometer and complete the given sentence.

هيٺ ڏنل ترماميٽر جي تصوير ڏسو ۽ جملو مڪمل ڪريو.
دئ گئے تھر مائٽر کي تصوير ڏيکڻين اور جملا مڪمل ڪريين۔



پارو

پاره

If the temperature of a human body decreases then mercury level of the thermometer will

جيڪڏهن انساني جسم جي گرمي جو درجو گهٽجي وڃي ته ترماميٽر ۾ موجود پارو جو درجو
اگر انساني جسم کا درجه حرارت کم ہو جائے تو تھر مائٽر میں موجود پارے کا درجه

Ans. _____

Task 41**2 Marks**

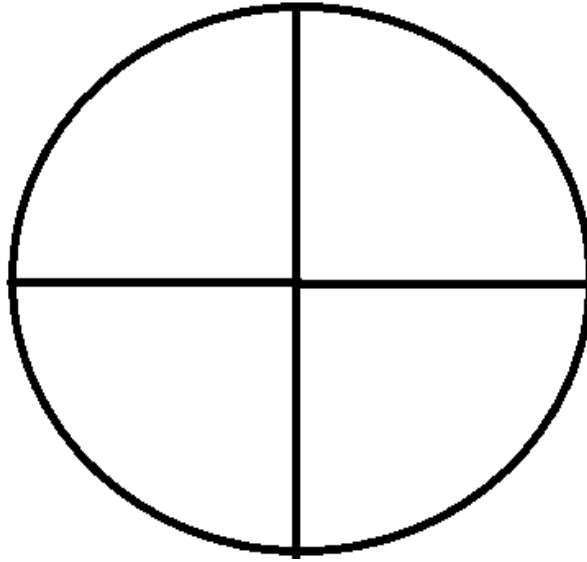
Look at the given picture and write the correct answers.

هيٺ ڏنل تصوير کي ڏسو ۽ صحيح جواب لکو.
تصوير کوڊيکڙين اور صحيح جوابات لکڙين۔

Earth

زمين

زمين



- i) Shade the portion/portions of the above picture of the Earth that consists of land.

مٽي ڏيکاريل تصوير ۾ زمين جي خشڪي واري حصي / حصن ۾ پينسل سان رنگ ڀريو.
اوڀردي گئي تصوير ۾ زمين کي خشڪي والي حصي / حصون ۾ پينسل سان رنگ ڀريو۔

- ii) When the Earth revolves around the Sun, it forms

جڏهن زمين سج جي چوڌاري چڪر لڳائيندي آهي ته ٺهندا آهن
جب زمين سورج کي گرد گھومتی ہے توڻيٺي ٺهي

Ans. _____

Task 42**2 Marks**

Write **any one** example for each of the given kinds of garbage.

هيٺ ڏنل ڪچري جي قسمن جو ڪوبه هڪ مثال لکيو.
دي گئي ڪچريءَ کي قسمن کي کوئي ايڪ مثال لکيڻ.

i) Wet garbage

آلو ڪچرو
گيلا ڪچرا

Ans. _____

ii) Dry garbage.

خشڪ ڪچرو
خشڪ ڪچرا

Ans. _____

Task 43**1 Mark**

How dry garbage can be recycled?

خشڪ ڪچري کي ٻيهر ڪهڙي طرح استعمال جي لائق بڻائي سگهجي ٿو؟
خشڪ ڪچريءَ کي ڪو ڪس طرح دوباره استعمال ڪرڻ قابل بنايو جاتا ٿو؟

Ans. _____

End of Paper